

**Демонстрационный вариант  
диагностической работы по технологии  
(Технологии ведения дома)  
для учащихся 7 классов**

Выберите все правильные ответы

1. К кисломолочным продуктам относятся

а) топленое молоко; б) ряженка; в) молочный напиток; г) кефир; д) творог; е) варенец.

Ответьте на вопрос

2. Чтобы сделать тесто пористым, воздушным, нужно добавить в него

Ответ: \_\_\_\_\_

Ответьте на вопрос

3. На рисунке изображено изделие – древнейшее русское лакомство на меду



Ответ: \_\_\_\_\_

Ответьте на вопрос

4. Что произойдет, если слоеное тесто не охлаждать в холодильнике?

Ответ: \_\_\_\_\_

Выберите все правильные ответы

5. Для приготовления песочного теста необходимы продукты

а) мука; б) дрожжи; в) сливочное масло; г) сахар; д) яйцо; е) разрыхлитель.

Выберите правильный ответ

6. Воздушное печенье из взбитых с сахаром яичных белков

а) крекер; б) цукаты; в) безе (меренги).

Ответьте на вопрос

7. За столом такого типа каждый обслуживает себя сам. Это позволяет пригласить больше гостей, чем мог бы вместить обычный обеденный стол.

Ответ: \_\_\_\_\_

Ответьте на вопрос

8. Вид ДПИ, в переводе с индонезийского означает «ткань», «точка» или «капля»









Ответ: \_\_\_\_\_

Из приведенных слов составьте предложение

9. В вышивке/ проложенных на ткани/ ряд/ называется швом/ ручных стежков

10. Установите соответствие между рисунком шва и его названием. Для этого под каждым названием шва запишите номер соответствующего рисунка.

1		4	
2		5	
3		6	

стебельчатый	тамбурный	петельный	назад иголку	козлик	ШОВ «ШНУРОК»

Ответьте на вопрос

11. Использование компьютера в вышивке крестом.

Ответ: \_\_\_\_\_

Ответьте на вопрос

12. Назовите не менее пяти видов вышивки гладью.

Ответ: \_\_\_\_\_

Выберите правильный ответ

13. Шов, который позволяет получить фактурную «буклированную» поверхность. Можно вышивать как нитками, так и лентами

а) рококо; б) сетка; в) французский узелок.

Ответьте на вопрос

14. На основе какого шва выполняется шов, изображенный на рисунке? Назовите его.



Ответьте на вопрос

15. Расскажите о профессии вышивальщица.

16. Укажите правильную последовательность действий при планировании проектной деятельности

1. Определять размеры, делать расчеты, строить чертежи

2. Выдвигать идеи и выполнять эскизы

3. Оценивать свою работу

4. Подбирать материалы

5. Организовывать свое рабочее место

6. Изготавливать вещи и готовить блюда своими руками

7. Исправлять ошибки

8. Подбирать инструменты и приспособления для различных технологических операций

9. Подсчитывать затраты на их изготовление

**Демонстрационный вариант  
диагностической работы по технологии  
(Технологии ведения дома)  
для учащихся 7 классов**

Выберите правильный ответ

1. В молоке содержится основной компонент для нормального роста и развития костей и зубов  
а) фосфор; б) железо; в) белок; г) кальций; д) йод; е) витамин А.

Ответьте на вопрос

2. Стопка блинов, в которой каждый блин переслоен начинкой

Ответ: \_\_\_\_\_

Ответьте на вопрос

3. На рисунке изображено изделие – его пекли на Руси, встречая весну



Ответ: \_\_\_\_\_

Ответьте на вопрос

4. Что произойдет, если при выпечке бисквитного теста открыть духовой шкаф?

Ответ: \_\_\_\_\_

Выберите все правильные ответы

5. Для приготовления слоеного теста необходимы продукты

а) мука; б) соль; в) сливочное масло; г) сахар; д) яйцо; е) вода.

Выберите правильный ответ

6. Сваренные в сахарном сиропе, а затем подсушенные и засахаренные фрукты

а) сладкая колбаска; б) цукаты; в) апельсиновые чашечки.


Ответьте на вопрос

7. При сервировке сладкого стола молочные коктейли подают в

Ответ: \_\_\_\_\_

Ответьте на вопрос

8. На рисунке изображен один из видов батика



Ответ: \_\_\_\_\_

Из приведенных слов составьте предложение

9. В старину использовали/ счетной вышивки/ дмотканое полотно/ для выполнения/ было считать нити/ у которого легко

10. Установите соответствие между видом вышивки и его названием. Для этого под каждым названием вышивки запишите номер соответствующего рисунка.

1		4	
2		5	
3		6	

владимирская гладь	штриховая гладь	мстёрская вышивка	атласная гладь	вышивка лентами	художественная гладь

Ответьте на вопрос

11. *Материалы и оборудование для вышивки*

Ответ: \_\_\_\_\_

Ответьте на вопрос

12. *Назовите не менее пяти швов, которые используются в вышивке гладью*

Ответ: \_\_\_\_\_

Выберите правильный ответ

13. *Для выполнения какого шва (лентами) необходимо выполнить дополнительно каркас из ниток мулине в виде лучеобразных стежков*

*а) роза «паутинка»; б) рококо; в) крученая роза.*

Ответьте на вопрос

14. *На основе какого шва выполняется шов, изображенный на рисунке? Назовите его.*



Ответьте на вопрос

15. *Расскажите о профессии художник росписи по ткани.*

16. *Укажите недостающие элементы: этапы творческого проекта и их содержание, а также правильную нумерацию*

<b>1. Технологический этап</b>	
<b>2.</b>	1. Окончательный контроль готового изделия. 2. Испытание изделия. 3. Анализ того, что получилось, а что нет. 4. Защита проекта.
<b>3. Поисковый этап</b>	

## Система оценивания результатов выполнения диагностической работы I вариант

### *Ответы к заданиям с выбором ответа и кратким ответом*

Номер задания	Ответ	Балл
1	б,г,д,е	1
2	разрыхлитель	1
3	пряник	1
4	слои могут смешаться	1
5	а,в,г,д,е	1
6	в	1
7	стол «фуршет»	1
8	батик	1
9	см. критерии оценивания	1
10	4,5,3,2,1,6	1
11	см. критерии оценивания	1
12	см. критерии оценивания	1
13	а	1
14	тамбурный шов, петля с прикрепом	1
15	см. критерии оценивания	1
16	2,5,8,1,4,6,9,3,7	1

### *Критерии оценивания ответов на задание с выбором Задание 1,5*

Содержание верного ответа	
Выбраны все правильные ответы	
Указания к оцениванию	Баллы
Ученик правильно указал номера	1
В других случаях	0
Максимальный балл	1

### *Критерии оценивания ответов на задание с кратким ответом Задание 2,3,4,6,7,8,13,14*

Содержание верного ответа	
Указан один правильный ответ	
Указания к оцениванию	Баллы
Ученица правильно указала номера, слова	1
В других случаях	0
Максимальный балл	1

### *Критерии оценивания ответов на задания с развёрнутым ответом Задание 9*

Содержание верного ответа	
Ряд ручных стежков, проложенных на ткани, в вышивке называется швом	
Указания к оцениванию	Баллы
Ученица правильно составила предложение	1
В других случаях	0
Максимальный балл	1

**Задание 10,16**

<b>Содержание верного ответа</b>	
Указана правильно соответствие и нумерация	
<b>Указания к оцениванию</b>	<b>Баллы</b>
Ученица правильно указала номера	1
В других случаях	0
Максимальный балл	<b>1</b>

**Задание 11**

<b>Содержание верного ответа</b> (допускаются иные формулировки ответа)	
<b>Примерный ответ:</b> Можно использовать фото, рисунки. Нужна специальная программа «Вышивка крестом» на СД	
<b>Указания к оцениванию</b>	<b>Баллы</b>
Ученица правильно указала, как можно использовать компьютер в вышивке	1
В других случаях	0
Максимальный балл	<b>1</b>

**Задание 12**

<b>Содержание верного ответа</b> (допускаются иные формулировки ответа)	
<b>Примерный ответ:</b> художественная, белая, владимирская, атласная, штриховая	
<b>Указания к оцениванию</b>	<b>Баллы</b>
Ученица правильно перечислила не менее 5 наименований	1
В других случаях	0
Максимальный балл	<b>1</b>

**Задание 15**

<b>Содержание верного ответа</b> (допускаются иные формулировки ответа)	
Специалист, который выполняет технологические операции художественной вышивки	
<b>Указания к оцениванию</b>	<b>Баллы</b>
Ученица правильно охарактеризовала специфику работы	1
В других случаях	0
Максимальный балл	<b>1</b>

**Система оценивания результатов выполнения диагностической работы II вариант*****Ответы к заданиям с выбором ответа и кратким ответом***

Номер задания	Ответ	Балл
1	г	1
2	блинный пирог	1
3	«жаворонки»	1
4	тесто «упадет», не будет воздушным	1
5	а,в,г,е	1
6	б	1
7	в высоких стаканах с трубочкой	1
8	узелковый батик	1
9	см. критерии оценивания	1
10	4,6,2,1,3,5	1
11	см. критерии оценивания	1

12	художественная, белая, владимирская, атласная, штриховая	1
13	в	1
14	французский узелок, рококо	1
15	см. критерии оценивания	1
16	2,5,8,1,4,6,9,3,7	1

**Критерии оценивания ответов на задание с выбором**  
**Задание 1,5**

<b>Содержание верного ответа</b>	
Выбраны все правильные ответы	
<b>Указания к оцениванию</b>	
Ученик правильно указал номера	1
В других случаях	0
Максимальный балл	<b>1</b>

**Критерии оценивания ответов на задание с кратким ответом**  
**Задание 2,3,4,6,7,8,13,14**

<b>Содержание верного ответа</b>	
Указан один правильный ответ	
<b>Указания к оцениванию</b>	
Ученица правильно указала номера, слова	1
В других случаях	0
Максимальный балл	<b>1</b>

**Критерии оценивания ответов на задания с развёрнутым ответом**  
**Задание 9**

<b>Содержание верного ответа</b>	
Для выполнения счетной вышивки в старину использовали домотканое полотно, у которого легко было считать нити	
<b>Указания к оцениванию</b>	
Ученица правильно составила предложение	1
В других случаях	0
Максимальный балл	<b>1</b>

**Задание 10**

<b>Содержание верного ответа</b>	
Указана правильно соответствие и нумерация	
<b>Указания к оцениванию</b>	
Ученица правильно указала номера	1
В других случаях	0
Максимальный балл	<b>1</b>

**Задание 11**

<b>Содержание верного ответа</b> (допускаются иные формулировки ответа)	
<b>Примерный ответ:</b> ткань плотная, канва, игла, нити шелковые, шерстяные, синтетические, хлопчатобумажные, пяльца, наперсток, ножницы	
<b>Указания к оцениванию</b>	
Ученица правильно перечислила не менее 7 наименований	1

В других случаях	0
Максимальный балл	1

### Задание 12

<b>Содержание верного ответа</b> (допускаются иные формулировки ответа)	
<b>Примерный ответ:</b> крест, французский узелок, рококо, петельный, сетка	
<b>Указания к оцениванию</b>	<b>Баллы</b>
Ученица правильно перечислила не менее 5 наименований	1
В других случаях	0
Максимальный балл	1

### Задание 15

<b>Содержание верного ответа</b> (допускаются иные формулировки ответа)	
Специалист, который хорошо знает законы композиции и цветоведения, выполняет эскизы для росписи, готовит материалы и выполняет художественную роспись текстильных изделий с использованием различных техник и приемов	
<b>Указания к оцениванию</b>	<b>Баллы</b>
Ученица правильно охарактеризовала специфику работы	1
В других случаях	0
Максимальный балл	1

### Задание 16

<b>Содержание верного ответа</b> (допускаются иные формулировки ответа в содержании этапа)	
<b>1. Поисковый этап</b> (выбор темы проекта; обоснование необходимости изготовления изделия; формулирование требований к проектируемому изделию; разработка нескольких вариантов изделия и выбор лучшего). <b>2. Технологический этап</b> (разработка конструкции и технологии изготовления изделия; подбор материалов и инструментов; организация рабочего места; изготовление изделия с соблюдением правил безопасной работы; подсчет затрат на изготовление). <b>3. Заключительный (аналитический) этап</b>	
<b>Указания к оцениванию</b>	<b>Баллы</b>
Ученица правильно указала этапы творческого проекта и их содержание	1
В других случаях	0
Максимальный балл	1

### Рекомендуемая шкала перевода количества баллов в школьные отметки

Образовательное учреждение может скорректировать представленную шкалу перевода баллов в школьные отметки с учетом контингента обучающихся.

<b>Школьная отметка</b>	<b>5</b>	<b>4</b>	<b>3</b>	<b>2</b>
<b>Количество баллов</b>	16-15	14-12	11-8	7 и менее