

Контрольная работа . ВАРИАНТ 1.

Ф.И. класс _____

I. Ответьте коротко на данные вопросы:

1. На скольких литосферных плитах находится материк Африка?

2. Почему для восточной Африки характерны вулканы?

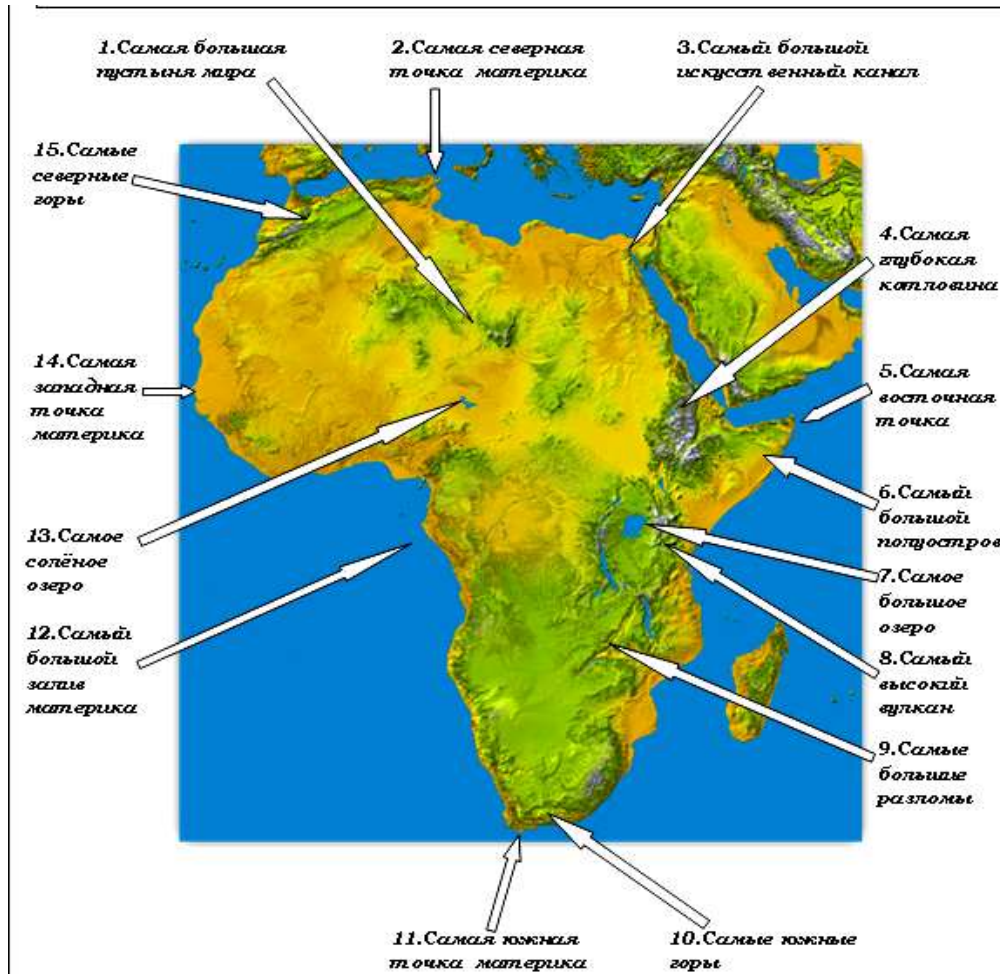
3. Самый большой остров у берегов Африки?

4. Крайняя западная точка материка?

5. Какой тип климата в Сахаре?

6. Водопад на реке Замбези?

II. Записать в таблицу рекорды Африки (лишь те номера, которые указаны в таблице)



2
4
5
7
8
10
13
14

III. Дайте объяснения следующим понятиям:

Калахари- _____

Финик - _____

Конго - _____

Ливингстон _____

IV. Выполните тест:

1. Почему Африка - самый жаркий материк Земли?

А. Большая часть материка находится между тропиками.

Б. Омывает тёплый Индийский океан.

2. К бассейну какого океана относится река Нил:

А. Индийского Б. Северо-Ледовитого В. Тихого Г. Атлантического

3. Типичные растения экваториальной Африки:

А. эвкалипт, травяное дерево Б. масличная пальма, железное дерево, красное дерево

В. баобаб, акация Г. вельвичия, алоэ

4. Животные африканской саванны:

А. зебры, жирафы, слоны

Б. обезьяны, ламы, крокодилы

V. 10) Какое африканское озеро изображено на рисунке?

А. Чад.

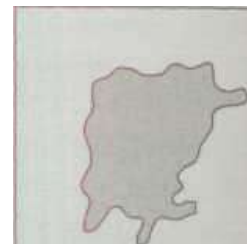
Б. Ньяса.

В. Виктория.

Г. Танганьика.

Это озеро самое _____

из всех африканских озер.



VI.



Нанести на контурную карту зону полупустынь и пустынь и дать её краткую характеристику по плану:

1. Географическое положение зоны.
2. Климатические условия.
3. Почвы.
4. Растительность.
5. Животный мир.

VII.

Опишите географическое положение Тихого океана по плану:

1. Укажите, между какими материками расположен океан. С какими океанами он связан.
2. Как расположен океан относительно экватора, тропиков, полярных кругов и нулевого меридиана.
3. В каких климатических поясах расположен океан.

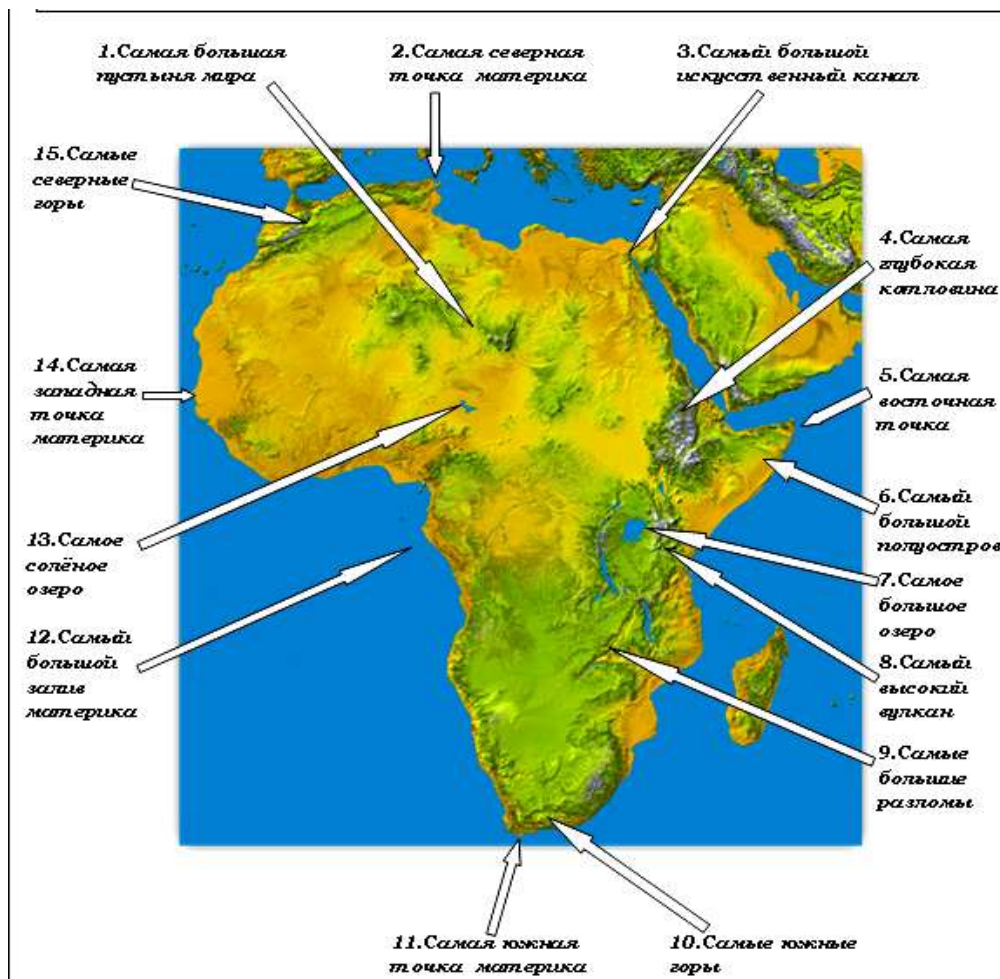
Контрольная работа ВАРИАНТ 2.

Ф.И. класс _____

I. Ответьте коротко на данные вопросы:

1. Как называются плита и платформа, на которых расположен материк Африка? _____
2. В рельефе Африки преобладают равнины. Почему? _____
3. Крайняя северная точка материка? _____
4. Пролив между Африкой и Евразией? _____
6. Растительность богата в Сахаре только в _____

II. Записать в таблицу рекорды Африки (лишь те номера, которые указаны в таблице)



1
3
6
9
11
12
14
15

III. Дайте объяснения следующим понятиям:

- Нигер _____
 Виктория _____
 гепард _____
 Нил _____

IV. Выполните тест:

1. Африка омывается океанами:
А. Тихим и Индийским Б. Индийским и Атлантическим В. Атлантическим и Тихим
2. Максимальное количество осадков на территории Африки выпадает:
А. вдоль экватора Б. вдоль южного тропика В. вдоль океанических побережий
3. Ближе других материков к Африке расположена:
А. Австралия Б. Евразия В. Антарктида Г. Америка

4. В рельефе Африки преобладают:

А. равнины

Б. низменности

В. горы

Г. впадины

V. Какое африканское озеро изображено на рисунке?

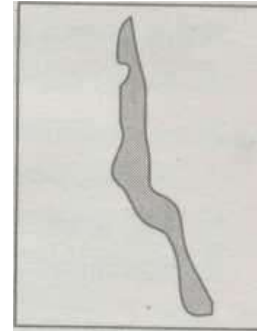
А. Танганьика.

Б. Виктория.

В. Чад.

Г. Ньяса.

Это озеро самое _____
из всех африканских озер.



VI.



Нанести на контурную карту зону экваториальных лесов и дать её краткую характеристику по плану:

1. Географическое положение зоны.
2. Климатические условия.
3. Почвы.
4. Растительность.
5. Животный мир.

VII.

Опишите географическое положение Атлантического океана по плану:

1. Укажите, между какими материками расположен океан. С какими океанами он связан.
2. Как расположен океан относительно экватора, тропиков, полярных кругов и нулевого меридиана.
3. В каких климатических поясах расположен океан.

Контрольная работа за полугодие. ВАРИАНТ 3.

Ф.И. класс _____

I. Ответьте коротко на данные вопросы:

1. В каком направлении движется плита, составляющая основу африканского материка? _____

2. Какие процессы влияют на разрушение гор? _____

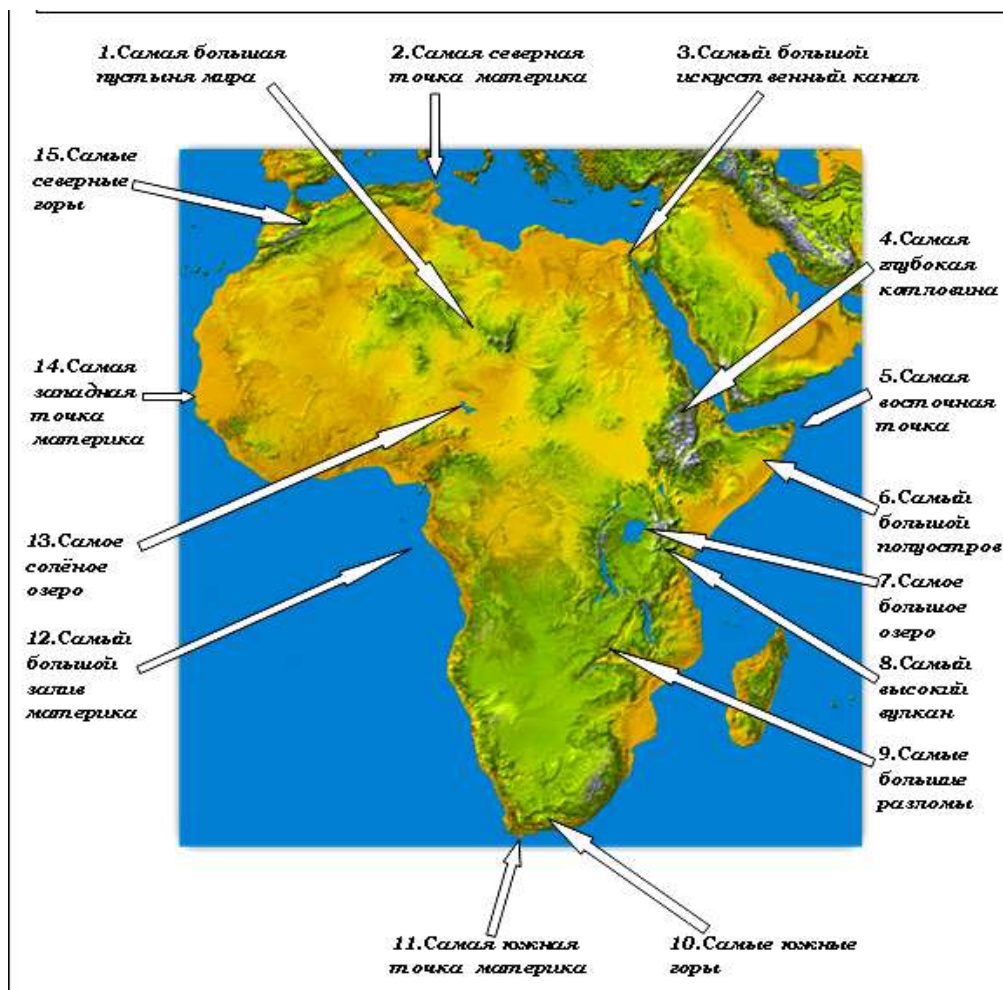
3. Самый большой остров у берегов Африки? _____

4. Крайняя восточная точка материка? _____

5. Окапи, тапир, шимпанзе, леопард живут в природной зоне: _____

6. Когда в саванне травы выгорают? _____

II. Записать в таблицу рекорды Африки (лишь те номера, которые указаны в таблице)



7
9
10
11
14

III. Дайте объяснения следующим понятиям:

баобаб _____

окапи _____

Замбези _____

Атлас _____

IV. Выполните тест:

1. По размерам территория Африки уступает:

А. Евразии В. Северной Америке Б. Антарктиде Г. Австралии

2. Крупнейшие оазисы Африки находятся:

А. в Сахаре В. в бассейне реки Конго Б. на о. Мадагаскар Г. на Эфиопском нагорье

3. Африку омывают океаны:

А. Тихий и Индийский Б. Индийский и Атлантический В. Атлантический и Тихий

4. Самая многоводная река Африки:

А. Нил

В. Нигерии

Б. Конго

Г. Замбези

VI. Какая африканская река изображено на рисунке?

А. Конго

Б. Нил

В. Убанги

Г. Оранжевая

Эта река самая _____

из всех африканских озер.



VII.



Нанести на контурную карту зону саванн и дать её краткую характеристику по плану:

1. Географическое положение зоны.
2. Климатические условия.
3. Почвы.
4. Растительность.
5. Животный мир.

VIII.

Опишите географическое положение Индийского океана по плану:

1. Укажите, между какими материками расположен океан. С какими океанами он связан.
2. Как расположен океан относительно экватора, тропиков, полярных кругов и нулевого меридиана.
3. В каких климатических поясах расположен океан.