

## Демонстрационный вариант

**A1.** Первые земледельцы появились в

- 1) Центральной Европе
- 2) Южной Европе
- 3) Передней Азии
- 4) Юго-Восточной Азии

**A2.** Прочтите отрывок из исторического источника и укажите, царю какого древнего государства принадлежала находка археологов.

«Во дворце археологам удалось раскопать помещение, полное глинописных табличек. Их оказалось не менее 20 тысяч. Это была огромная по тем временам царская библиотека с множеством научных и литературных произведений. Дворец пережил страшный пожар, но «глиняным книгам» он пошёл только на пользу, они стали ещё крепче».

- 1) Египет
- 2) Китай
- 3) Финикия
- 4) Ассирия

**A3.** Высшая власть в Древнем Египте принадлежала

- 1) радже
- 2) стратегу
- 3) фараону
- 4) императору

**A4.** Укажите номер неправильного варианта ответа.

В Древнем Китае впервые в истории научились

- 1) производить порох
- 2) играть в шахматы
- 3) выращивать рис
- 4) изготавливать шёлк

**A5.** Небольшие самостоятельные города - государства в Древней Греции назывались

- 1) полисами
- 2) метрополиями
- 3) провинциями
- 4) колониями

**A6.** Прочтите отрывок из труда древнего историка и укажите, о ком в нём идёт речь.

«...он не угодил ни тем, ни другим: богатых людей разочаровал тем, что отменил долговые обязательства, но еще более того он возбудил недовольство бедняков, потому что он не произвёл передела земли, на который они надеялись, и не установил полного равенства всего имущества, как это сделал Ликург в Спарте».

- 1) Сократ
- 2) Фидий
- 3) Аристотель
- 4) Солон

**A7.** Спартак был

- 1) выдающимся государственным деятелем
- 2) прославленным римским полководцем
- 3) предводителем восстания рабов
- 4) известным покровителем поэтов и музыкантов

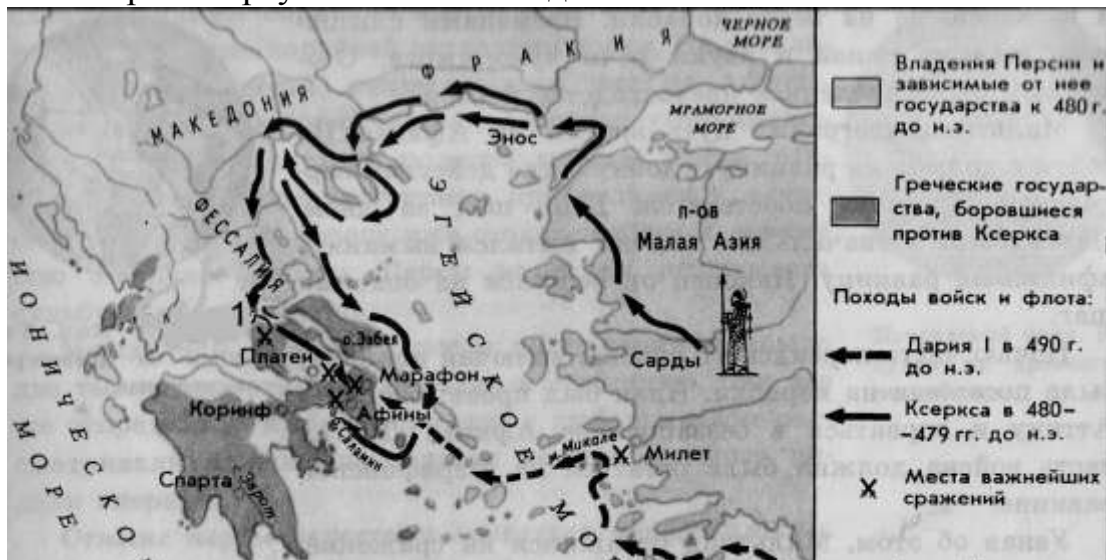
**A8.** Римляне начинали своё летосчисление с

- 1) 753 г. до н.э.    2) 776 г. до н.э.    3) 509 г. до н.э.    4) 494 г. до н.э.

**A9.** Общественно - политическую жизнь Римской республики НЕ характеризует понятие

- 1) трибун    2) архонт    3) сенатор    4) консул

**A10.** Рассмотрите карту и выполните задание



Цифрой **1** на карте обозначено место сражения, героем которого был

- 1) Тутмос III    2) царь Леонид    3) Ганнибал    4) Агамемнон

## ЧАСТЬ 2

**Задания В1–В4 требуют ответа в виде последовательности цифр, букв или слова (словосочетания), которые следует записать в ответе**

**В1.** Расположите в хронологическом порядке следующие события. Укажите ответ в виде последовательности букв выбранных элементов.

- А) создание державы Александра Македонского
- Б) правление Хаммурапи
- В) возникновение единого государства в Древнем Египте
- Г) установление императорской власти в Риме

Ответ: \_\_\_\_\_

**В2.** Установите соответствие между понятием и его определением: к каждому элементу первого столбца подберите соответствующий элемент из второго столбца.

### ПОНЯТИЕ

- А) агора
- Б) фаланга
- В) республика

### ОПРЕДЕЛЕНИЕ

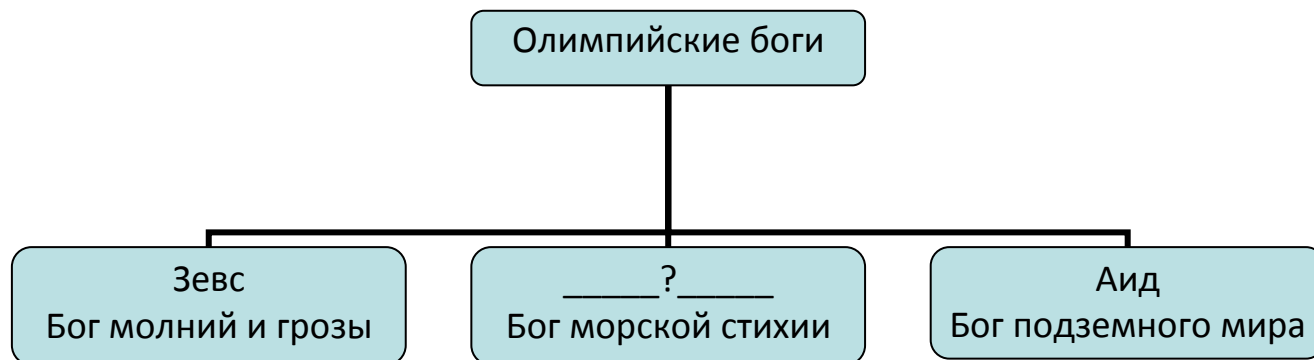
- 1) торговая площадь, место народных собраний в греческих городах
- 2) совет старейшин
- 3) боевой строй пехоты

4) государство с избираемыми органами власти

Ответ:

А	Б	В

**В3.** Запишите имя, пропущенное в схеме.



Ответ: \_\_\_\_\_

**В4.** Отметьте причины упадка Греции в IV в. до н.э. Найдите в приведённом ниже списке две причины и запишите цифры, под которыми они указаны.

- 1) развитие торговли
- 2) борьба между демосом и аристократами
- 3) регулярные набеги варваров
- 4) разорение крестьян и ремесленников
- 5) частые землетрясения

Ответ: \_\_\_\_\_

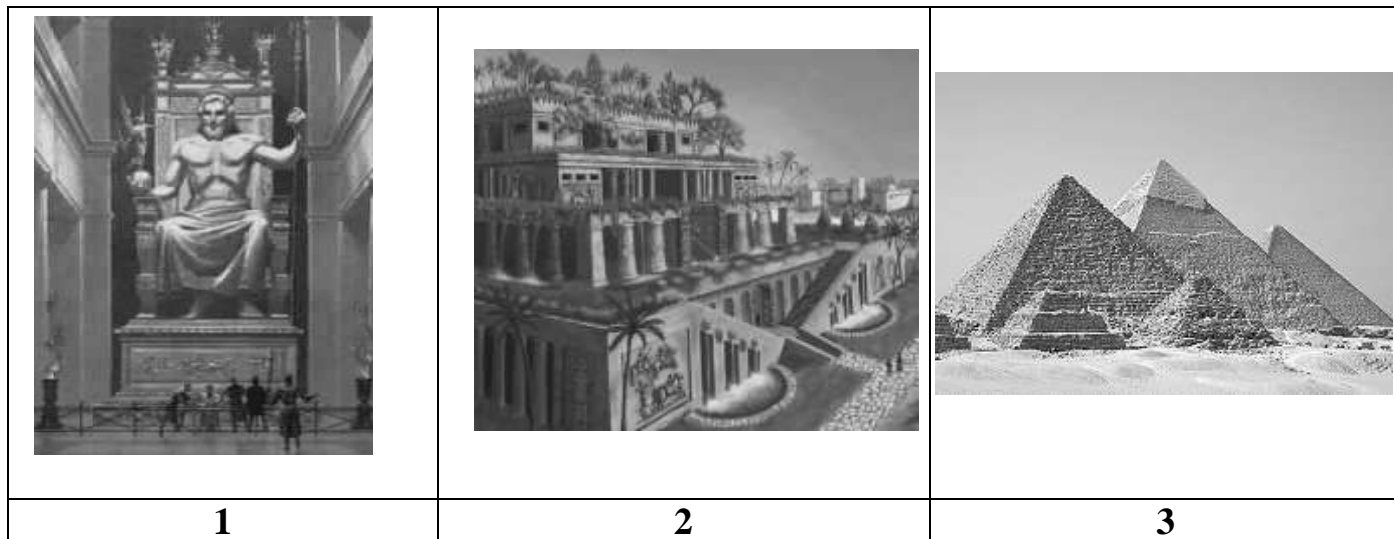
**В5.** Решите хронологическую задачу. Итог запишите в ответе.

В 221 г. до н.э. правитель древнего царства объединил разрозненные государства под своей властью. Это государство просуществовало всего 14 лет и распалось через 3 года после смерти правителя. В каком году умер правитель?

Ответ: \_\_\_\_\_

### ЧАСТЬ 3

*Задания С1-С4 выполняются с использованием нижеприведенных изображений*



**С1.** Напишите названия творений эпохи древнего мира, которые вы видите на рисунках под соответствующими им цифрами.

1. \_\_\_\_\_
2. \_\_\_\_\_
3. \_\_\_\_\_

**С2.** Какое обобщающее название дал этим творениям историк Геродот?

Ответ: \_\_\_\_\_

**С3.** Какие еще творения, наряду с изображёнными, включил Геродот в свой список величайших памятников древнего мира? Назовите не менее двух творений.

\_\_\_\_\_

\_\_\_\_\_

**С4.** Используя знания по истории, напишите кратко об одном из указанных вами творений.

\_\_\_\_\_

\_\_\_\_\_

\_\_\_\_\_

\_\_\_\_\_

\_\_\_\_\_

## Система оценивания результатов выполнения диагностической работы

Ответы на задания А1-А10, В1, В3 и В5 оцениваются в 1 балл, а на задания В2 и В4 – в 2 балла. Для заданий В2 и В4 один балл выставляется в случае, если в представленном ответе один символ указан ошибочно. Ответы на задания С1- С4 оцениваются в соответствии с критериями оценивания.

### Правильные ответы:

№ задания	Ответ
<i>A1</i>	3
<i>A2</i>	4
<i>A3</i>	3
<i>A4</i>	2
<i>A5</i>	1
<i>A6</i>	4
<i>A7</i>	3
<i>A8</i>	1

№ задания	Ответ
<i>A9</i>	2
<i>A10</i>	2
<i>B1</i>	3214
<i>B2</i>	134
<i>B3</i>	Посейдон
<i>B4</i>	24
<i>B5</i>	210 г. до н.э.

### Критерии оценивания ответов на задания с развернутым ответом.

<b>С1</b>	<b>Содержание верного ответа и указания по оцениванию</b> (допускаются иные формулировки ответа, не искажающие его смысл)	<b>Баллы</b>
	В ответе должны быть указаны: 1. Статуя Зевса в Олимпии 2. Висячие сады Семирамиды 3. Пирамиды Древнего Египта	
	Правильно указаны 3 названия	2
	Правильно указаны 2 названия	1
	Правильно указано только 1 название ИЛИ ответ неверный	0
	<i>Максимальный балл</i>	<b>2</b>

<b>С2</b>	<b>Содержание верного ответа и указания по оцениванию</b> (допускаются иные формулировки ответа, не искажающие его смысл)	<b>Баллы</b>
	В ответе должно быть указано: Семь чудес света	
	Правильно указано название	1
	Ответ неверный	0
	<i>Максимальный балл</i>	<b>1</b>

<b>С3</b>	<b>Содержание верного ответа и указания по оцениванию</b> (допускаются иные формулировки ответа, не искажающие его смысл)	<b>Баллы</b>
	В ответе могут быть названы: Галикарнасский мавзолей Колосс Родосский Александрийский маяк Храм Артемиды в Эфесе	

Правильно указаны два названия	1
Правильно указано только 1 название ИЛИ ответ неверный	0
<i>Максимальный балл</i>	<b>1</b>

<b>С4</b>	<b>Содержание верного ответа и указания по оцениванию</b> (допускаются иные формулировки ответа, не искажающие его смысл)	<b>Баллы</b>
	В ответе должны быть: 1. Автор (если известен), время и место создания описываемого памятника культуры. 2. Цель (назначение) создания данного памятника культуры. 3. Художественная, историческая ценность произведения (суждения о том, почему данный памятник Геродот отнёс к семи чудесам света). 4. Историческая судьба описываемого памятника культуры.	
	Правильно названы факты (п.1) и приведены суждения по трем указанным позициям (п.2-4)	3
	Правильно названы факты (п.1) и приведены суждения по двум указанным позициям (п.2-3)	2
	Правильно названы факты (п.1) и приведены суждения по одной указанной позиции	1
	Правильно названы только факты (п.1) ИЛИ ответ неверный	0
	<i>Максимальный балл</i>	<b>3</b>

**Рекомендуемая шкала перевода первичных баллов в школьные отметки**  
(образовательное учреждение может скорректировать представленную шкалу перевода баллов в школьные отметки с учетом контингента обучающихся).

<b>Школьная отметка</b>	<b>5</b>	<b>4</b>	<b>3</b>	<b>2</b>
<b>Первичный балл</b>	24-22	21-17	16-11	10 и менее